

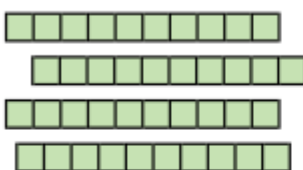







Guía de Matemáticas Unidad N° 3 3° Año Básico



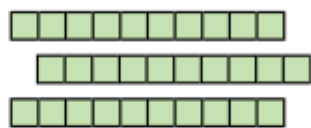








Nombre:

Fechas

Objetivo: Resolver sumas y restas de Unidades y decenas.

Calcula en forma escrita las siguientes sumas:

Decenas	Unidades	Decenas	Unidades
			
			
$\begin{array}{r} 42 = \\ + 35 = \\ \hline \end{array}$		$\begin{array}{r} 17 = \\ + 21 = \\ \hline \end{array}$	

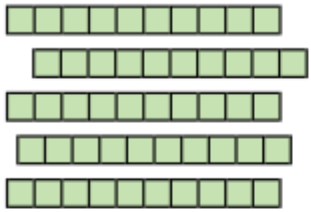

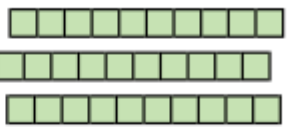

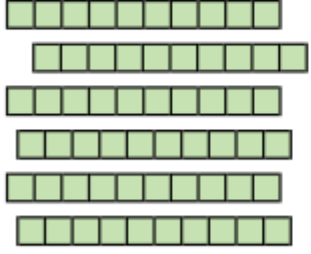

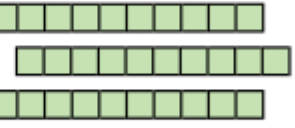

Decenas	Unidades	Decenas	Unidades
			
   			
$\begin{array}{r} 12 = \\ + 47 = \\ \hline \end{array}$		$\begin{array}{r} 33 = \\ + 23 = \\ \hline \end{array}$	

Calcula las sumas descomponiendo en decenas y unidades. Apóyate de la tabla de valor posicional y escribe el resultado.

$\begin{array}{r} 57 = \\ + 42 = \\ \hline \end{array}$	D	U

$\begin{array}{r} 23 = \\ + 63 = \\ \hline \end{array}$	D	U

Calcula las restas usando el procedimiento anterior.

Decenas	Unidades	Decenas	Unidades
			
$\begin{array}{r} 55 = \\ - 34 = \\ \hline \end{array}$		$\begin{array}{r} 38 = \\ - 25 = \\ \hline \end{array}$	
Decenas	Unidades	Decenas	Unidades
			
$\begin{array}{r} 62 = \\ - 31 = \\ \hline \end{array}$		$\begin{array}{r} 36 = \\ - 13 = \\ \hline \end{array}$	