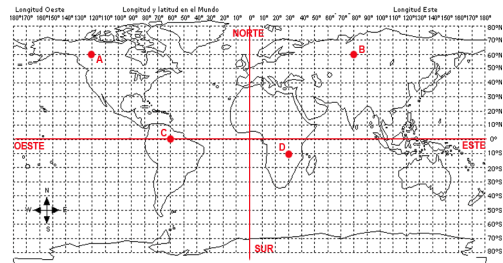
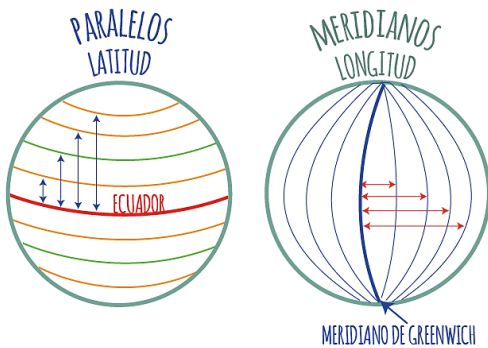


## GUÍA DE HISTORIA Y GEOGRAFÍA CUARTO AÑO BÁSICO

**OBJETIVO:** Identificar y relacionar latitud con paralelos y longitud con meridianos. Ubicar lugares en un mapa utilizando coordenadas geográficas

### Lo que sé y lo que aprenderé en la clase de Historia y geografía

- **Lee** el enunciado que señala lo que se trabajará en la clase del día de hoy.
- **Pinta** el recuadro que señale ¿Qué es lo que ya sabes?



Identificar latitud y longitud en un mapa o globo terráqueo.

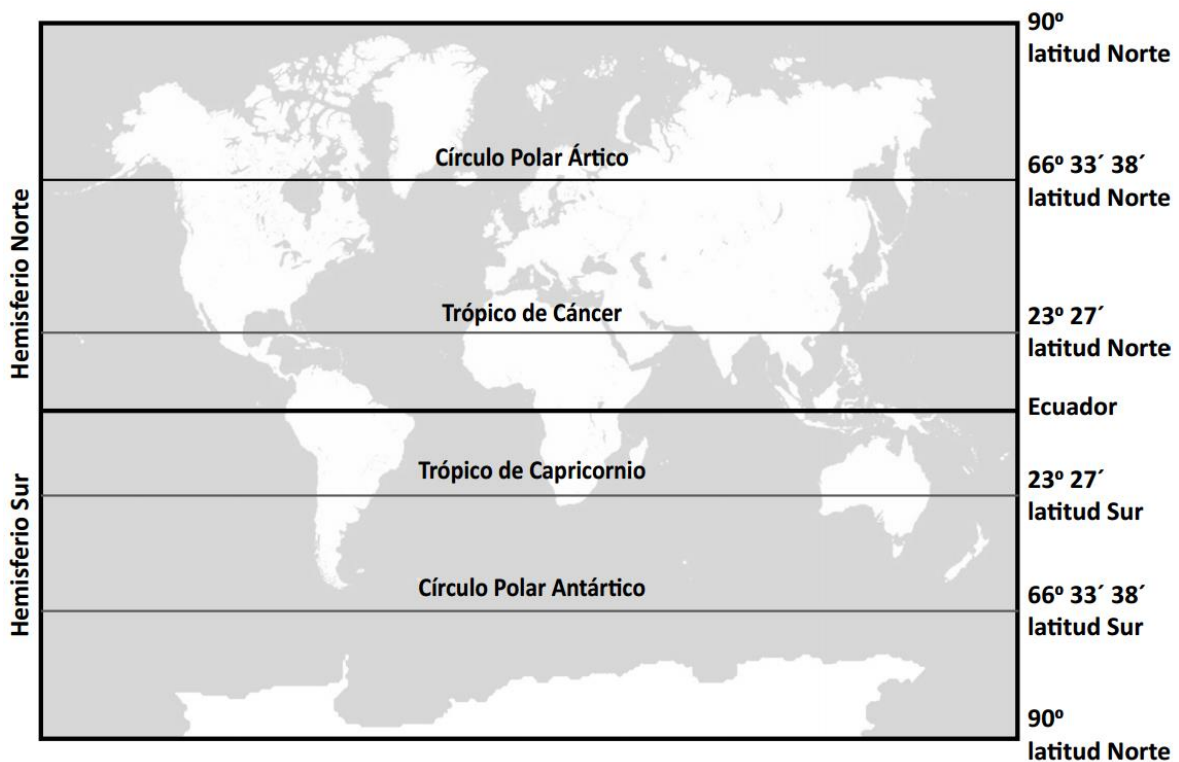
Ubicar lugares en el mapa utilizando coordenadas geográficas.

¿Qué más sabes? **Escríbelo.**

## Guía de trabajo: Latitud y longitud



La latitud es la distancia que hay entre un lugar del planeta y la Línea del Ecuador. Ésta se mide en grados, y puede ser norte o sur.



**Actividad 1: Observa el mapa y responde.**

1. ¿Qué continentes se encuentran en el hemisferio norte?

2. ¿Qué paralelos se encuentran en el hemisferio sur?

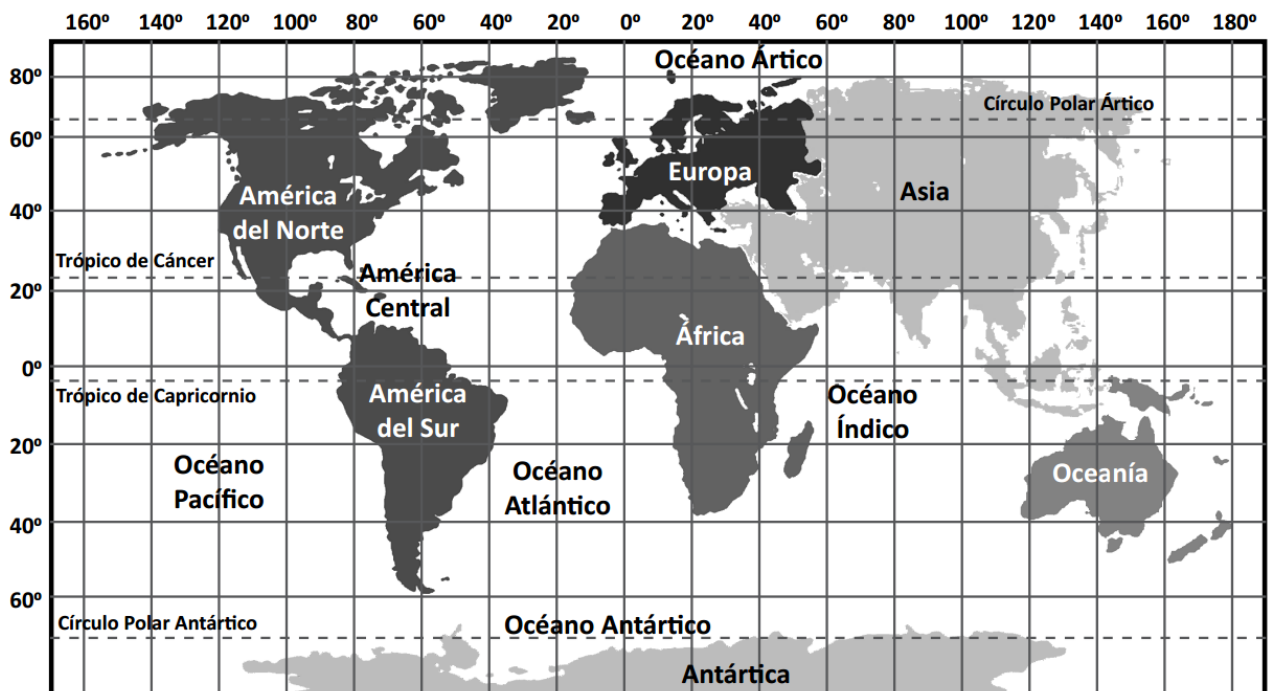
  

3. ¿En qué hemisferio se encuentra nuestro continente?



La longitud es la distancia medida en grados que hay entre un lugar y el Meridiano de Greenwich.  
Para calcular la longitud hay que determinar cuántos meridianos (grados) hay entre el lugar y el Meridiano de Greenwich.  
También, especificar el hemisferio, ya que la longitud puede ser oeste o este, según si el lugar está al oeste o al este del Meridiano de Greenwich.

**Actividad 2: Observa el mapa, lee la tabla y marca con una X según corresponda.**




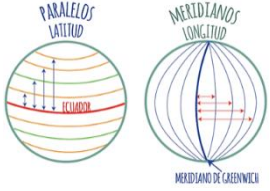
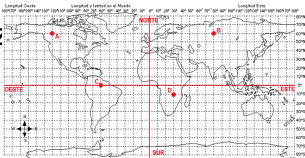


	V	F
1. Todos los territorios del continente americano tienen longitud oeste.		
2. África y Europa tienen territorios en los hemisferios este y oeste.		
3. Cualquier lugar del continente asiático tiene longitud este.		
4. Cualquier punto del océano Glaciar Ártico tiene longitud oeste.		
5. Cualquier punto del océano Índico tiene longitud este.		

## AUTOEVALUACIÓN

Marca con un 

según lo aprendido el día de hoy:

¿Qué aprendí	 Muy bien	  Bien Debo mejorar
Identificar latitud y longitud en un mapa o globo terráqueo.		
Ubicar lugares en el mapa utilizando coordenadas geográficas.		

Debo continuar trabajando en: